

Reasoning Mega Quiz for SSC

Q1. निम्नलिखित प्रश्न में, दिए गये विकल्पों में से सम्बन्धित संख्या का चयन कीजिये।

49 : 169 :: 66 : ?

- (a) 126
- (b) 132
- (c) 144
- (d) 162

Q2. निम्नलिखित प्रश्न में, दिए गये विकल्पों से विषम वर्ण-युग्म का चयन कीजिये।

- (a) BN - P
- (b) GI - R
- (c) LM - Y
- (d) TA - U

Q3. दी गयी उत्तर आकृति में से, उस एक का चयन कीजिये जिसमें प्रश्न आकृति छिपी/सन्निहित है।

(a)



(b)



(c)



(d)



Bilingual



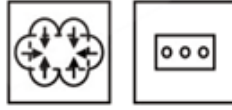
SSC CHSL

PRIME

265+ Total Tests

2020-21 Online Tests

Q4. कागज़ के एक टुकड़े को प्रश्न आकृति में दर्शाए अनुसार मोड़कर पंच किया गया है। दी गयी उत्तर आकृति में से, यह ज्ञात कीजिये कि खोलने पर यह कैसा दिखाई देगा?



(a)



(b)



(c)



(d)



Q5. एक लुप्त पद के साथ एक श्रृंखला दी गयी है। दिए गये विकल्पों में से उस सही विकल्प का चयन कीजिये जो श्रृंखला को पूरा करेगा।

ACE, FHJ, KMO, ?

(a) QRS

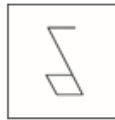
(b) PRT

(c) PRU

(d) QRV



Q6. दी गयी उत्तर आकृति में से, उस एक का चयन कीजिये जिसमें प्रश्न आकृति छिपी/सन्निहित है।



(a)



(b)



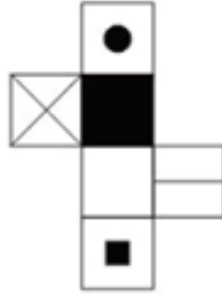
(c)



(d)



Q7. प्रश्न में दी गयी आकृति को मोड़ने पर दिए गये विकल्पों में से कौन सी आकृति बनाई जा सकती है?



(a)



(b)



(c)



(d)



Q8. निम्नलिखित प्रश्न में, दिए गये विकल्पों में से विषम वर्ण का चयन कीजिये।

- (a) M
- (b) E
- (c) S
- (d) W

Q9. निम्नलिखित प्रश्न में, दिए गये विकल्पों में से सम्बन्धित संख्या का चयन कीजिये।

AKP : 1121256 :: LNO : ?

- (a) 196125144
- (b) 144196225
- (c) 144225196
- (d) 41521196

12 Months Validity

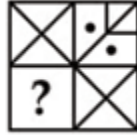
SSC CHSL

KA MAHA PACK

Live Class, Video Course,
Test Series, eBooks

Bilingual (with eBooks)

Q10. कौन-सी उत्तर आकृति प्रश्न आकृति के प्रारूप को पूरा करेगी?



(a)



(b)



(c)



(d)



Q11. दिए गए विकल्पों में से विषम शब्द/ वर्ण/ संख्या / संख्या युग्म का चयन कीजिए।

- (a) 5306
- (b) 2147
- (c) 4205
- (d) 4308

Q12. एक श्रृंखला दी गई है, जिसमें एक पद लुप्त हैं। दिए गए विकल्पों में से उस सही विकल्प का चयन करें, जो श्रृंखला को पूरा करेगा।

Inch, Decameter, Foot, ?

- (a) Decimeter
- (b) Millimeter
- (c) Centimeter
- (d) Meter

Q13. एक श्रृंखला दी गई है, जिसमें एक पद लुप्त हैं। दिए गए विकल्पों में से उस सही विकल्प का चयन करें, जो श्रृंखला को पूरा करेगा।

5, 8, 12, 17, 23, ?

- (a) 30
- (b) 72
- (c) 65
- (d) 48

Q14. इस प्रश्न में, दो कथनों के बाद दो निष्कर्ष I और II दिए गए हैं। ज्ञात तथ्यों से अलग होने पर भी आपको दिए गए कथन को सत्य मानना है और निर्णय लीजिए कि दिया गया कौन सा निष्कर्ष, दिए गए कथनों का तर्कपूर्ण अनुसरण करता है।

कथन:

- (I) कुछ लेखक शिक्षक हैं।
- (II) कोई भी शिक्षक महिला नहीं है।

निष्कर्ष:

- (I) कुछ शिक्षक महिला नहीं हैं।
- (II) कुछ महिला शिक्षक हैं।
- (a) निष्कर्ष I अनुसरण करता है।
- (b) निष्कर्ष II अनुसरण करता है।
- (c) न तो निष्कर्ष I न ही निष्कर्ष II अनुसरण करता है।
- (d) निष्कर्ष I और II दोनों अनुसरण करते हैं।

Q15. एक श्रृंखला दी गई है, जिसमें एक पद लुप्त है। दिए गए विकल्पों में से उस सही विकल्प का चयन करें, जो श्रृंखला को पूरा करेगा।

AN, EQ, IT, MW, ?

- (a) QZ
- (b) KX
- (c) IV
- (d) ZM



Q16. एक श्रृंखला दी गई है, जिसमें एक पद लुप्त है। दिए गए विकल्पों में से उस सही विकल्प का चयन करें, जो श्रृंखला को पूरा करेगा।

PRQ, UWV, ZBA, ?, JLK

- (a) FHG
- (b) EGF
- (c) DFE
- (d) FGE

Q17. चंदन, अंकित से 2 वर्ष बड़ा लेकिन सुमित से 1 वर्ष छोटा है। अंकित, खुशबू की दोगुनी आयु का है। अगर खुशबू की आयु 25 वर्ष है, तो सुमित की आयु (वर्ष में) क्या होगी?

- (a) 51
- (b) 53
- (c) 52
- (d) 55



Q18. दिए गए शब्दों को उस क्रम में व्यवस्थित करें जिसमें वे शब्दकोश में होते हैं।

- i. Yielded
 - ii. Yelp
 - iii. Yeast
 - iv. Yogurt
- (a) ii, iii, iv, i
(b) iii, ii, i, iv
(c) iv, i, ii, iii
(d) i, ii, iii, iv

Q19. एक निश्चित कूट भाषा में, "MATERIAL" को "RIALMATE" के रूप में लिखा जाता है। तो उसी भाषा में "REMEMBER" का कूट क्या होगा?

- (a) REMEREEM
(b) MBEREMER
(c) MBERREME
(d) MBERREEM

Q20. निम्नलिखित प्रश्न में, दी गई श्रृंखला के अज्ञात संख्या का चयन करें।

5	8	32
9	6	48
7	9	?

- (a) 45
(b) 48
(c) 54
(d) 64



adda247

Q21. निम्नलिखित प्रश्न में, दिए गए विकल्पों में से विषम शब्द का चयन करें।

- (a) Walls
(b) Doors
(c) Floor
(d) Foundation

Q22. निम्नलिखित प्रश्न में, दिए गए विकल्पों में से विषम वर्णों का चयन करें।

- (a) DU
(b) KP
(c) JQ
(d) GT

Q23. एक श्रृंखला दी गई है, जिसमें एक पद लुप्त है। दिए गए विकल्पों में से उस सही विकल्प का चयन करें जो श्रृंखला को पूरा करेगा।

BD, CE, DF, EG, ?

- (a) FG
(b) DH
(c) FH
(d) EH

Q24. रमन को याद है कि परीक्षा 15 मई के बाद लेकिन 18 मई से पहले है, जबकि दीप को याद है कि परीक्षा 21 मई से पहले लेकिन 16 मई के बाद है। तो मई की किस तारीख को परीक्षा है?

- (a) 17
- (b) 18
- (c) 19
- (d) 20

Q25. तस्वीर की एक महिला की ओर इशारा करते हुए अमित ने कहा, "वह मेरी माँ के एकमात्र पोते की माँ है"। तो महिला, अमित से किस प्रकार संबंधित है?

- (a) माँ
- (b) पुत्री
- (c) नीस
- (d) पत्नी

Q26. निम्नलिखित प्रश्न में, उस शब्द का चयन करें जिसे दिए गए शब्द के वर्णों का उपयोग करके नहीं बनाया जा सकता है।

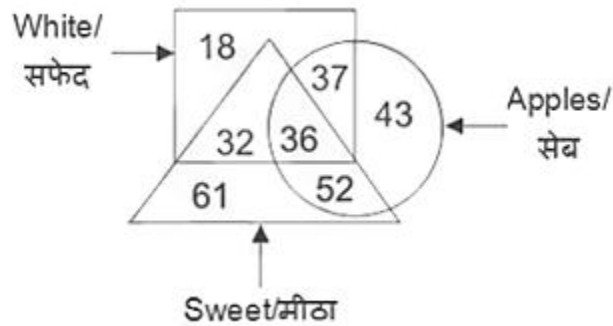
CARBONATE

- (a) CARBON
- (b) BORN
- (c) EARN
- (d) BOSE

Q27. यदि $6A + 11B + 33 = 18$ और $4A + 9B + 18 = 8$ है, तो $3A + 5B + 35 = ?$

- (a) 12
- (b) 25
- (c) 21
- (d) 18

Q28. दी गयी आकृति में, कितने सफेद सेब हैं?



- (a) 37
- (b) 73
- (c) 36
- (d) 88

Q29. दिए गए विकल्पों में से संबंधित शब्द /वर्ण/ संख्या का चयन कीजिए।

Peacock : India :: Bear : ?

- (a) Australia
- (b) America
- (c) England
- (d) Russia

Q30. चार पुस्तकों में, पुस्तक-1, पुस्तक-2 का दोगुना भारी है। पुस्तक-3 का वजन, पुस्तक-2 के वजन का आधा है। पुस्तक 4, पुस्तक 2 की तुलना में 60 ग्राम अधिक है, लेकिन पुस्तक 1 की तुलना में 60 ग्राम कम है। तो कौन सी पुस्तक सबसे भारी है?

- (a) पुस्तक 1
- (b) पुस्तक 2
- (c) पुस्तक 3
- (d) पुस्तक 4

Complete Preparation for
SSC Exams

SSC
EXTREME

Video Courses, Test Series,
eBooks

