

Reasoning Mega Quiz for SSC Tier-1

Q1. एक शब्द को दिए गए विकल्पों में से किसी एक संख्या समूह द्वारा दर्शाया जाता है। विकल्पों में दिए गए संख्याओं के समूह को अक्षरों के दो वर्गों द्वारा दर्शाया जाता है, जैसा कि नीचे दिए गए दो आव्यूह में दर्शाया गया है। आव्यूह I के स्तम्भ और पंक्तियों की संख्या 0 से 4 तक और आव्यूह II की 5 से 9 तक हैं, इन आव्यूहों से एक अक्षर को पहले इसकी पंक्ति और बाद में इसके स्तम्भ द्वारा दर्शाया जा सकता है। उदाहरण के लिए 'F' को 32, 42 द्वारा दर्शाया जाता है और 'M' को 88, 68 द्वारा दर्शाया जाता है। इसी प्रकार, आपको 'GAIN' शब्द के लिए संख्या-समूह का चयन करना है।

Matrix – I

	0	1	2	3	4
0	A	N	H	H	E
1	D	A	N	L	I
2	E	G	A	N	E
3	E	L	F	A	N
4	L	G	F	N	E

Matrix – II

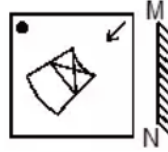
	5	6	7	8	9
5	I	R	B	T	O
6	R	I	T	M	S
7	R	T	G	I	O
8	T	S	G	M	I
9	S	T	G	M	O

- (a) 21, 00, 89, 44  
 (b) 77, 22, 66, 43  
 (c) 87, 33, 23, 12  
 (d) 97, 11, 88, 01

Q2. अखिल, रश्मि का मैटरनल अंकल है। रमेश, रश्मि का पिता है। तो रमेश का अखिल से क्या संबंध है?

- (a) ब्रदर-इन-लॉ  
 (b) भाई  
 (c) पिता  
 (d) कजिन

Q3. यदि एक दर्पण को MN रेखा पर रखा जाता है, तो कौन सी उत्तर आकृति, दी गयी आकृति की सही छवि होगी?



(a)



(b)



(c)



(d)




Q4. उस आरेख की पहचान कीजिए जो दिए गए वर्गों के बीच संबंधों का सबसे अच्छा प्रतिनिधित्व करता है।  
प्राथमिक रंग(Primary colors), लाल, नीला, मैजेंटा

(a)



(b)



(c)



(d)



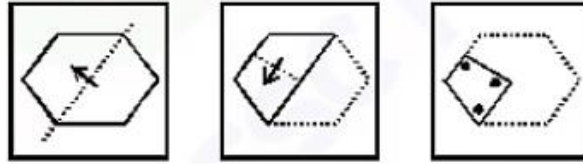
TEST SERIES  
BILINGUAL



SSC CGL 2020-21  
**PRIME**

500+ TOTAL TESTS

Q5. कागज़ के एक टुकड़े को प्रश्न आकृति में दर्शाए अनुसार मोड़कर पंच किया गया है। दी गयी उत्तर आकृति में से, यह बताइए कि खोलने पर यह कैसा दिखाई देगा?



(a)



(b)



(c)



(d)



Q6. एक निश्चित कूट भाषा में, "FAILURE" को "FRULIAG" के रूप में लिखा जाता है। तो उसी भाषा में "SUCCESS" को किस रूप में लिखा जाएगा?

- (a) TSECCUT
- (b) SSECCUS
- (c) TSECCUS
- (d) TSECCUU

Q7. निम्नलिखित प्रश्नों में, दी गई श्रृंखला से लुप्त संख्या का चयन करें।

?	113	161
2	7	6
3	4	5

- (a) 31
- (b) 36
- (c) 280
- (d) 161

Q8. यदि "A" का अर्थ 'जोड़' है ; "B" का अर्थ "भाग" है ; "C" का अर्थ "गुणा" है और "D" का अर्थ "घटाव" है, तो 154 B 11 C 6 A 6 D 27= ?

- (a) 60
- (b) 63
- (c) 33
- (d) 64

Q9. निम्नलिखित प्रश्न में, वर्णों के उस संयोजन का चयन कीजिए, जिसे जब दिए गए वर्ण-श्रृंखला के खाली स्थानों में क्रमानुसार रखा जाता है, तो श्रृंखला पूरी होगी?

s\_r\_t\_s\_r

- (a) trts
- (b) rtst
- (c) trst
- (d) tsss

Q10. एक कम्पास में, पश्चिम दिशा को दक्षिण के रूप में दिखाया गया है। कम्पास के अनुसार, एक आदमी को किस दिशा में जाना चाहिए, अगर वह पूर्व की ओर बढ़ना चाहता है?

- (a) उत्तर
- (b) दक्षिण
- (c) पूर्व
- (d) पश्चिम

Q11. लुप्त संख्या ज्ञात कीजिये।

88, 22, 25, 5, 9, 3/2, ?

- (a) 10/2
- (b) 13/2
- (c) 6
- (d) 12

Q12. यदि '-' का अर्थ 'भाग'; '+' का अर्थ 'गुणा'; '÷' का अर्थ 'घटाव' और 'x' का अर्थ 'जोड़' हैं, तो निम्नलिखित में से कौन सा समीकरण सही है?

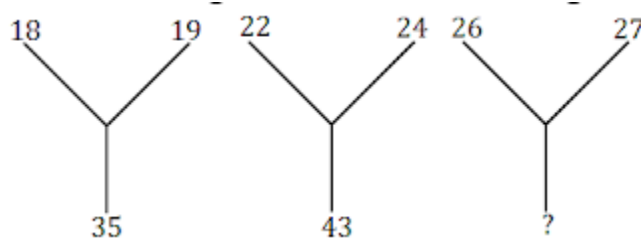
- (a)  $6 + 20 - 12 \div 7 - 1 = 38$
- (b)  $6 - 20 \div 12 \times 7 + 1 = 57$
- (c)  $6 + 20 - 12 \div 7 \times 1 = 62$
- (d)  $6 \div 20 \times 12 + 7 - 1 = 70$

Q13. जिस प्रकार वर्ग, घन से संबंधित है उसी प्रकार 'वृत्त' \_\_\_ से संबंधित है।

- (a) गोला
- (b) परिधि
- (c) व्यास
- (d) क्षेत्रफल



Q14. लुप्त संख्या ज्ञात कीजिये।



- (a) 49
- (b) 56
- (c) 80
- (d) 64

Q15. दिए गए विकल्पों में से संबंधित शब्द का चयन करें।

Jailor : Prison :: curator: ?

- (a) Cell
- (b) Museum
- (c) Warden
- (d) Cure

Q16. एक श्रृंखला दी गई है, जिसमें एक पद लुप्त हैं। दिए गए विकल्पों में से उस सही विकल्प का चयन कीजिए, जो श्रृंखला को पूरा करेगा।

Brazil, Russia, ?, China, South Africa

- (a) India
- (b) Indonesia
- (c) Iran
- (d) Japan

Q17. राजेश, नेहा का ससुर है और आकाश राजेश का इकलौता पुत्र है। तो आकाश नेहा से किस प्रकार संबंधित है?

- (a) पत्नी
- (b) पति
- (c) पुत्र
- (d) पिता

Q18. दुरंतो की गति राजधानी की गति से अधिक है। शताब्दी, गरीब रथ से तेज लेकिन राजधानी से धीमी चलती है। तो सबसे धीमी कौन चलती है?

- (a) गरीब रथ
- (b) शताब्दी
- (c) राजधानी
- (d) दुरंतो

Q19. दिए गए शब्दों को उस क्रम में व्यवस्थित करें जिसमें वे शब्दकोश में होते हैं।

- i. Amateur
- ii. Abominable
- iii. Amalgamable
- iv. Accumulate

- (a) ii, i, iv, iii
- (b) iii, iv, ii, i
- (c) ii, iv, i, iii
- (d) ii, iv, iii, i

Q20. निम्नलिखित प्रश्न में, दो कथनों के बाद दो निष्कर्ष I और II दिए गए हैं। ज्ञात तथ्यों से अलग होने पर भी आपको दिए गए कथन को सत्य मानना है और निर्णय लीजिए कि कौन सा निष्कर्ष, कथनों का तर्कपूर्ण अनुसरण करता है।

कथन:


- (I) कुछ चिल्ड्रेन, एडल्ट हैं।
- (II) कुछ एडल्ट, ओल्ड हैं।

निष्कर्ष:

- (I) कुछ चिल्ड्रेन, ओल्ड नहीं हैं।
- (II) कुछ एडल्ट, ओल्ड नहीं है।

विकल्प-

- (a) निष्कर्ष I अनुसरण करता है
- (b) निष्कर्ष II अनुसरण करता है
- (c) न तो निष्कर्ष I न ही निष्कर्ष II अनुसरण करता है
- (d) निष्कर्ष I और II दोनों अनुसरण करते हैं



Q21. दिए गए शब्दों को उस क्रम में व्यवस्थित करें जिसमें वे शब्दकोश में होते हैं।

- 1. Wrong
- 2. Write
- 3. West
- 4. Wind
- 5. Walk

- (a) 53412
- (b) 53421
- (c) 43512
- (d) 54312

Q22. अमित की वर्तमान आयु उसकी बहन की शादी के समय की उसकी आयु की 5/4 है। यदि उसकी बहन की शादी 5 वर्ष पहले हुई थी और उस समय उसके पिता की आयु अमित की आयु की दोगुनी थी, तो उसके पिता की वर्तमान आयु (वर्षों में) कितनी है?

- (a) 55
- (b) 45
- (c) 50
- (d) 40



Q23. एक पिता की वर्तमान आयु उसके पुत्र की आयु की 3 गुनी है। 10 वर्ष के बाद पुत्र की आयु रमन की वर्तमान आयु की 5 गुनी होगी। यदि रमन ने अपना तीसरा जन्मदिन 2 वर्ष पहले मनाया था, तो पिता की वर्तमान आयु (वर्षों में) कितनी होगी?

- (a) 45
- (b) 40
- (c) 36
- (d) 39

Q24. निम्नलिखित प्रश्न में, उस शब्द का चयन करें जिसे दिए गए शब्द के वर्णों का उपयोग करके नहीं बनाया जा सकता है।

Precipitation

- (a) Reaction
- (b) Patient
- (c) Reacts
- (d) Petition

Q25. एक निश्चित कूट भाषा में, "BALL" को "27" और "CANE" को "23" लिखा जाता है। तो उसी कूट भाषा में "YELL" को कैसे लिखा जाएगा?

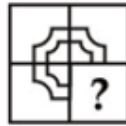
- (a) 50
- (b) 39
- (c) 54
- (d) 61

Q26. यदि 21 (49) 14 और 159 (169) 146 है, तो 56 (A) 44 में 'A' का मान क्या होगा?

- (a) 144
- (b) 121
- (c) 225
- (d) 256

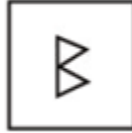


Q27. कौन सी उत्तर आकृति प्रश्न आकृति के पैटर्न को पूरा करेगी?



- (a)
- (b)
- (c)
- (d)

Q28. दी गयी उत्तर आकृति में से, उस एक का चयन कीजिए, जिसमें प्रश्न आकृति छिपी/ सन्निहित हो।



(a)



(b)



(c)



(d)



SSC

Q29. कागज़ के एक टुकड़े को प्रश्न आकृति में दर्शाए अनुसार मोड़कर पंच किया गया है। दी गयी उत्तर आकृति में से, यह बताइए कि खोलने पर यह कैसा दिखाई देगा?



(a)



(b)



(c)



(d)





Q30. यदि एक दर्पण को AB रेखा पर रखा जाता है, तो कौन सी उत्तर आकृति, दी गयी आकृति की सही छवि होगी?



(a)



(b)



(c)



(d)



SSC  
adda247

NRA-CET Ready

SSC  
MAHA PACK

Live Class, Video Course,  
Test Series, eBooks

Bilingual (with eBooks)  
12 Months Validity