

Reasoning Mega Quiz for SSC Tier-1

Q1. यदि 39574 को XPLMD के रूप में लिखा जाता है और 0826 को TBNQ के रूप में लिखा जाता है। तो उसी भाषा में DBMTX को किस रूप में लिखा जाएगा?

- (a) 48730
- (b) 48603
- (c) 48703
- (d) 48743

Q2. निम्नलिखित समीकरण को सही करने के लिए किन दो चिह्नों को आपस में परिवर्तित किया जाना चाहिए?
 $15+3\times 9-4\div 16 = 57$

- (a) - और +
- (b) - और ÷
- (c) - और ×
- (d) + और ÷

Q3. एक अभिकथन और एक कारण नीचे दिया गया है।

अभिकथन : भारत एक संप्रभु देश है।

कारण: इसकी संसद दिल्ली में है।

निम्नलिखित विकल्पों में से अपने उत्तर का चयन कीजिए।

- (a) अभिकथन और कारण दोनों सत्य हैं और कारण अभिकथन की सही व्याख्या है।
- (b) अभिकथन और कारण दोनों सत्य हैं लेकिन कारण अभिकथन की सही व्याख्या नहीं है।
- (c) अभिकथन और कारण दोनों असत्य हैं।
- (d) अभिकथन सत्य है लेकिन कारण असत्य है।

Q4. नीचे कुछ कथनों के बाद कुछ निष्कर्ष दिए गए हैं। ज्ञात तथ्यों से अलग होने पर भी आपको दिए गए कथन को सत्य मानना है और निर्णय लीजिए कि दिया गया कौन सा निष्कर्ष, दिए गए कथनों का तर्कपूर्ण अनुसरण करता है।

कथन :

स्वदेशी कच्चे तेल के उत्पादन की तुलना में घरेलू मांग तेजी से बढ़ रही है।

निष्कर्ष :

I. कच्चा तेल का आयात करना होगा।

II. घरेलू मांग को कम करना होगा।

- (a) केवल निष्कर्ष I अनुसरण करता है।
- (b) केवल निष्कर्ष II अनुसरण करता है।
- (c) न तो निष्कर्ष I न ही निष्कर्ष II अनुसरण करता है।
- (d) निष्कर्ष I और II दोनों अनुसरण करते हैं।

NRA-CET Ready

SSC

MAHA PACK

Live Class, Video Course,
Test Series, eBooks

Bilingual (with eBooks)

12 Months Validity

Q5. शरद ने मीना का परिचय कराते हुए कहा कि यह मेरे पुत्र के दादा की इकलौती बहन हैं। तो मीना का शरद से क्या संबंध है?

- (a) माँ
- (b) बहन
- (c) पैटरनल आंट
- (d) पुत्री

Q6. यदि TRACTER = 14 और TROLLEY = 14 हैं, तो SCOOTER=?

- (a) 24
- (b) 14
- (c) 28
- (d) 30

Q7. उस विकल्प का चयन कीजिए, जो तीसरे पद से उसी प्रकार संबंधित है, जिस प्रकार दूसरा पद, पहले पद से संबंधित है।
LUNG : MAN :: GILL : _____

- (a) FISH
- (b) COW
- (c) PEACOCK
- (d) BIRD

Q8. यदि "÷" का अर्थ "गुणा करना", "-" का अर्थ "जोड़ना", "+" का अर्थ "भाग देना" और "x" का अर्थ "घटाव करना" हैं, तो निम्नलिखित में से कौन नीचे दिए गए व्यंजक का मान होगा?

$$19 \div 9 \times 51 - 171 + 19$$

- (a) 143
- (b) 129
- (c) 179
- (d) 151

Q9. यदि "-" और "x" चिह्न को आपस में परिवर्तित कर दिया जाता है साथ ही "7" और "3" को भी इसी प्रकार आपस में परिवर्तित कर दिया जाता है, तो निम्नलिखित में से कौन सा सही होगा?

- (a) $20 \times 1 - 7 = 3$
- (b) $1 \times 20 - 7 = 20$
- (c) $3 - 7 \times 1 = 20$
- (d) $20 - 3 \times 1 = 7$

Q10. वर्णों की दी गई अव्यवस्थित श्रृंखला से फूल और पेड़ के नाम अलग करें और दिए गए विकल्पों में से फूल और पेड़ के नाम का पहला अक्षर चुनें।

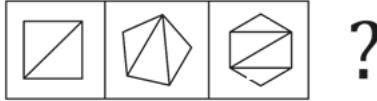
"saltoteuk"

- (a) SR
- (b) RE
- (c) LK
- (d) LT

Q11. निम्नलिखित चार वर्ण-समूहों में से तीन एक निश्चित प्रकार से एक समान हैं और एक भिन्न है। विषम ज्ञात कीजिए।

- (a) XAZC
- (b) PRRT
- (c) CDDE
- (d) LMNO

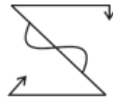
Q12. उस आकृति का चयन कीजिए, जो निम्नलिखित आकृति श्रृंखला में अगले स्थान पर आयेगी।



- (a)
- (b)
- (c)
- (d)



Q13. जब एक दर्पण को आकृति के शीर्ष पर रखा जाता है, तो उस आकृति की दर्पण छवि का चयन कीजिए।



- (a)
- (b)
- (c)
- (d)

BILINGUAL



SSC

COMPLETE FOUNDATION

2020-21 Batch 2.0

Starts Dec 28, 2020

11 AM to 05 PM

Q14. उस शब्द-युग्म का चयन कीजिए जिसमें दो शब्द उसी प्रकार से संबंधित हैं जिस प्रकार निम्नलिखित दो शब्द हैं।

Vision: Blindness.

- (a) Cholera : Epidemic
- (b) Old age : Senility
- (c) Deaf : hear
- (d) Audition : Hearing.

Q15. जब राम अपने स्कूल पहुँचता है, तो राम की स्कूल बस उत्तर – पश्चिम की ओर उन्मुख है। अपने घर से चलना आरंभ करने के बाद वह एक बाएँ, एक दायें, अन्य बायें मुड़ के पहुँच जाता है। यदि बस राम को पिक अप करती है और पूर्व दिशा की ओर चलना आरंभ करती है तो स्कूल पहुँचने पर बस किस दिशा में उन्मुख है।

- (a) दक्षिण-पूर्व
- (b) उत्तर- पूर्व
- (c) उत्तर
- (d) दक्षिण

Q16. निम्नलिखित श्रृंखला में प्रश्न चिह्न (?) के स्थान पर कौन से वर्ण – समूह को प्रतिस्थापित किया जायेगा?

AZC, DXF, GUI, _?_, MLO

- (a) KQM
- (b) JQL
- (c) KPN
- (d) JRL



Q17. निम्नलिखित चार शब्दों में से तीन एक निश्चित प्रकार से एक समान है और एक भिन्न है। विषम ज्ञात कीजिए।

- (a) Iron Box
- (b) Mixer Grinder
- (c) Computer
- (d) Gas Stove

Q18. तार्किक क्रम और सार्थक क्रम में निम्नलिखित शब्दों की व्यवस्था को इंगित करने के लिए सही विकल्प का चयन कीजिए।

- (1) State
- (2) District
- (3) City
- (4) Continent
- (5) Country
- (a) 5, 4, 3, 2, 1
- (b) 4, 5, 1, 2, 3
- (c) 4, 5, 1, 3, 1
- (d) 4, 5, 2, 3, 1

Q19. यदि CAD = 4 और BUS = 4

तो TRAIN =?

- (a) 4
- (b) 5
- (c) 6
- (d) 7

Q20. निम्नलिखित श्रृंखला में प्रश्न संख्या (?) के स्थान को कौन सी संख्या प्रतिस्थापित करेगी?

8, 11, 17, 20, 26, _?_

- (a) 29
- (b) 32
- (c) 35
- (d) 27

Q21. दिए गए विकल्पों में से उस वेन आरेख का चयन कीजिए, जो निम्नलिखित वर्गों के बीच संबंध का उचित प्रतिनिधित्व करता है:

नर्स, डॉक्टर, फार्मासिस्ट

(a)



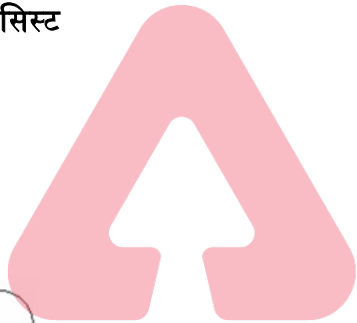
(b)



(c)



(d)



SSC
adda247

Q22. एक कूट भाषा में, CONSULTANCY को QOJKYOUYJWP के रूप में लिखा जाता है। तो उसी भाषा में MASTERMINDS को किस रूप में लिखा जाएगा?

- (a) APOWIOZJEI
- (b) APOWHIOZJEI
- (c) APOWIHOZJEI
- (d) APOWJIOZJEI

Bilingual

SSC CHSL
PRIME

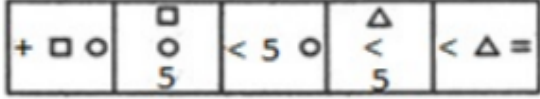
265+ Total Tests

2020-21 Online Tests

Q23. रंगा गणित के एक असाइनमेंट में सही किये प्रश्नों के तीन गुना गलत प्रश्न हल करता है। यदि वह कुल 72 प्रश्न हल करता है, तो वह अपने गणित के असाइनमेंट में कितने प्रश्न सही हल करता है?

- (a) 16
- (b) 20
- (c) 14
- (d) 18

Q24. उस आकृति का चयन कीजिए, जो निम्नलिखित आकृति श्रृंखला में अगली आकृति होगी।



- (a)
- (b)
- (c)
- (d)



Q25. यदि 'FORTUNE' को '6521347' के रूप में कूटबद्ध किया जाता है और 'PREY' को '8279' के रूप में कूटबद्ध किया जाता है, तो 'NEPTUNE' को किस रूप में कूटबद्ध किया जाएगा?

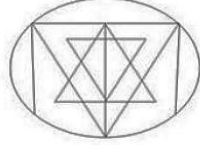
- (a) 4781347
- (b) 4781342
- (c) 4782347
- (d) 4781343

Q26. उस विकल्प का चयन कीजिए, जो तीसरे वर्ण-समूह से उसी प्रकार संबंधित है, जिस प्रकार दूसरा वर्ण-समूह, पहले वर्ण-समूह से संबंधित है।

BANK: WXLJ :: IDOL: _____

- (a) DAKM
- (b) ADMK
- (c) DAMJ
- (d) DAMK

Q27. निम्नलिखित आकृति में कितने त्रिभुज हैं?

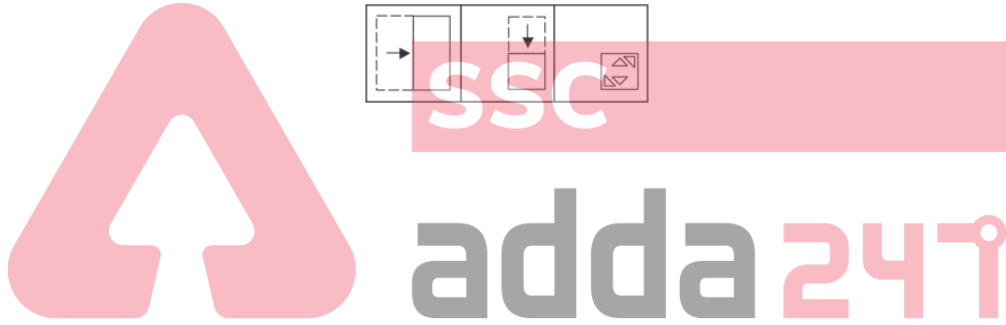


- (a) 23
- (b) 27
- (c) 25
- (d) 29

Q28. निम्नलिखित चार संख्याओं में से तीन एक निश्चित प्रकार से एक समान हैं और एक भिन्न है। तो भिन्न ज्ञात कीजिए।

- (a) 83115
- (b) 54215
- (c) 43217
- (d) 12347

Q29. एक कागज़ को मोड़ा जाता है और नीचे दर्शाए अनुसार काटा जाता है। यह कागज़ खोले जाने पर कैसा दिखाई देगा?



- (a)
- (b)
- (c)
- (d)

Q30. T, D की बहन है। D, P से विवाहित है। P, M का पुत्र है। T, J की माँ है। Y, U का पिता है। Y का केवल एक पुत्र और केवल एक पुत्री है। U, T की पुत्री है। Q, D का पुत्र है। यदि M, W की पत्नी है, तो Q, W से किस प्रकार संबंधित है?

- (a) सन-इन-लॉ
- (b) पुत्र
- (c) ग्रैंड-सन
- (d) नेफ्यू

NRA-CET Ready

SSC

Useful for CGL, CHSL & others

TEST PACK

Bilingual (with eBooks)

12 Months Validity*