

Reasoning Mega Quiz for SSC Tier-1

Q1. रवि, रवि के पिता की पत्नी की इकलौती डॉटर-इन-लाॅ से कैसे संबंधित है।

- (a) पति
- (b) पुत्र
- (c) पिता
- (d) दादा

Q2. निर्देश: कथन के बाद निष्कर्ष दिया गया है। उस निष्कर्ष का चयन कीजिए जो दिए गए कथनों का तार्किक रूप से अनुसरण करता है।

कथन: सभी संगठित व्यक्ति आराम का समय पाते हैं। सुनीता, अपने बहुत व्यस्त कार्यक्रम के बावजूद, आराम के लिए समय निकालती है।

निष्कर्ष:

I. सुनीता एक संगठित व्यक्ति है

II. सुनीता एक शानदार व्यक्ति हैं

- (a) यदि केवल निष्कर्ष I अनुसरण करता है;
- (b) यदि केवल निष्कर्ष II अनुसरण करता है;
- (c) यदि न तो I और न ही II अनुसरण करता है; तथा
- (d) यदि I और II दोनों अनुसरण करते हैं

Q3. निम्नलिखित में से कौन सा एक इस समूह से संबंधित नहीं है?

- (a) पुस्तक
- (b) पेन
- (c) स्केल
- (d) प्रधानाचार्य

Q4. P, Q, R, S दक्षिणावर्त दिशा में बैठे कैरम खेल रहे हैं। यदि R उत्तर की ओर उन्मुख है। तो Q किस दिशा की ओर उन्मुख है।

- (a) पूर्व
- (b) पश्चिम
- (c) उत्तर
- (d) दक्षिण

SSC

adda247



SSC & RAILWAY
MAHAPACK

Live Class | Test Series
Video Course | Ebook

BILINGUAL

Q5. निम्नलिखित शब्दों के लिए सबसे उपयुक्त वेन आरेख चुनिए:

खरगोश, टमाटर, पशु

(a)



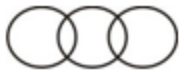
(b)



(c)



(d)



Q6. दिए गए विकल्पों में से उस प्रारूप का चयन कीजिए जो निकटतम है:



(a) 1

(b) 2

(c) 3

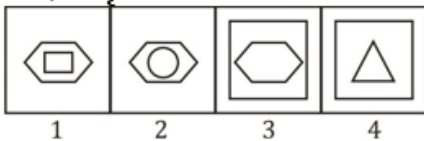
(d) 4

Q7. दी गई प्रश्न आकृति श्रृंखला में अगले स्थान पर कौन सी उत्तर आकृति आएगी?

प्रश्न आकृति:



उत्तर आकृति:



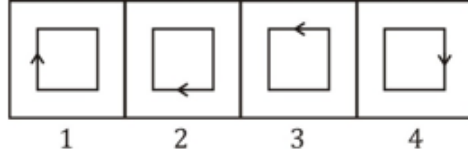
(a) 1

(b) 2

(c) 3

(d) 4

Q8. विषम ज्ञात कीजिए।



- (a) 1
- (b) 2
- (c) 3
- (d) 4

Directions (9-10) : नीचे दिए गए प्रत्येक प्रश्न में एक कथन के बाद I और II दो पाठ्यक्रम दिए गए हैं। कथन में दी गई जानकारी के आधार पर आपको कथनों को सत्य मानना है, फिर निर्णय लीजिये कि दिए गए दोनों में से कौन-सा सुझाए गए पाठ्यक्रम का तार्किक रूप से अनुसरण करता है।

Q9. कथन : राज्य सरकार ने "काला अजार" को महामारी अधिनियम 1987 के तहत एक उल्लेखनीय बीमारी घोषित करने का निर्णय लिया है। मरीज के परिवार के सदस्य या पड़ोसी राज्य के अधिकारियों को सूचित नहीं करने की स्थिति में दंडित होने के लिए उत्तरदायी हैं।

कार्यवाई:

- I. अधिनियम को प्रभावी ढंग से लागू करने के प्रयास किए जाने चाहिए।
- II. सजा के मामलों को बड़े पैमाने पर मीडिया के माध्यम से प्रचारित किया जाना चाहिए ताकि और अधिक लोग कड़ी कार्रवाई के बारे में जागरूक हों।

- (a) यदि केवल I अनुसरण करता है
- (b) यदि केवल II अनुसरण करता है
- (c) यदि न तो I और न ही II अनुसरण करता है
- (d) यदि I और II दोनों अनुसरण करते हैं

Q10. कथन : प्रत्येक वर्ष, मॉनसून की शुरुआत में या अंत में, हमें कंजक्टिवाइटिस के कुछ मामले होते हैं, लेकिन इस वर्ष यह लगभग चार वर्षों के बाद एक बड़ी महामारी का साक्षी प्रतीत हो रहा है।

कार्यवाई:

- I. इस महामारी की जांच के लिए हर चार वर्ष के बाद एहतियाती कदम उठाए जाने चाहिए।
- II. सर्दियों के मौसम में लोगों को उबला हुआ पानी पीने की सलाह दी जानी चाहिए।

- (a) यदि केवल I अनुसरण करता है
- (b) यदि केवल II अनुसरण करता है
- (c) यदि न तो I और न ही II अनुसरण करता है
- (d) यदि I और II दोनों अनुसरण करते हैं

Q11. दिए गए विकल्पों में से विषम संख्या/वर्ण/संख्या युग्म ज्ञात कीजिए।

- (a) 243001
- (b) 721001
- (c) 334001
- (d) 406001

Q12. दिए गए विकल्पों में से विषम संख्या/वर्ण/संख्या युग्म ज्ञात कीजिए।

- (a) 2W3
- (b) 1Q7
- (c) 1M3
- (d) 1R9

Q13. दिए गए विकल्पों में से विषम संख्या/वर्ण/संख्या युग्म ज्ञात कीजिए।

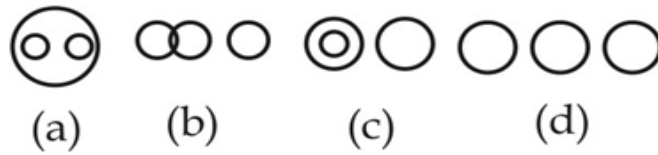
- (a) AUgPZ
- (b) YGLhT
- (c) MXiDV
- (d) KFeCO

Q14. दिए गए विकल्पों में से विषम संख्या/वर्ण/संख्या युग्म ज्ञात कीजिए।

- (a) 8 - 27
- (b) 125 - 216
- (c) 343 - 512
- (d) 1009 - 1331



Q15. निम्नलिखित में से कौन सा आरेख डॉक्टर, वकील और व्यवसाय के बीच के संबंध को दर्शाता है?



- (a) a
- (b) b
- (c) c
- (d) d

Directions (16-17): एक श्रृंखला दी गई है, जिसमें एक पद लुप्त हैं। दिए गए विकल्पों में से उस सही विकल्प का चयन कीजिए, जो श्रृंखला को पूरा करेगा।

Q16. 5, 11, 21, 43, 85, ?

- (a) 170
- (b) 171
- (c) 181
- (d) 185



Q17. 12, 27, 85, 345, ?

- (a) 1380
- (b) 1725
- (c) 1731
- (d) 1737

Q18. यदि '+' का अर्थ '-'; '-' का अर्थ '×'; '×' का अर्थ '÷' और '÷' का अर्थ '+' हैं, तो $25 \times 5 \div 30 + 8 - 2 = ?$

- (a) 15
- (b) 18
- (c) 19
- (d) 54

Q19. कुछ समीकरण एक निश्चित प्रणाली के आधार पर हल किए गए हैं। उसी आधार पर बिना हल किये गए समीकरण का सही उत्तर ज्ञात कीजिए।

$5 \times 8 = 28, 3 \times 7 = 12, 8 \times 6 = 35, 13 \times 13 = ?$

- (a) 130
- (b) 140
- (c) 144
- (d) 169



Q20. एक कथन के बाद दो निष्कर्ष I और II दिए गए हैं। ज्ञात तथ्यों से अलग होने पर भी आपको दिए गए कथन को सत्य मानना है और निर्णय लीजिए कि दिया गया कौन सा निष्कर्ष, दिए गए कथन से निकाला जा सकता है। और अपने उत्तर को चिह्नित कीजिए।

कथन :

शिक्षित व्यक्ति का मान-सम्मान, अशिक्षित व्यक्ति से अलग होता है।

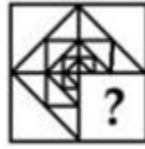
निष्कर्ष:

I. शिक्षा, व्यक्ति के मान-सम्मान को प्रभावित करती है।

II. अशिक्षित व्यक्ति का मान-सम्मान नहीं होता है।

- (a) केवल निष्कर्ष I अंतर्निहित है।
- (b) केवल निष्कर्ष II अंतर्निहित है।
- (c) निष्कर्ष I और II दोनों अंतर्निहित हैं।
- (d) न तो निष्कर्ष I न ही निष्कर्ष II अंतर्निहित है।

Q21. कौन सी उत्तर आकृति प्रश्न आकृति के पैटर्न को पूरा करेगी?



(a)



(b)



(c)



(d)



Q22. दी गयी उत्तर आकृति में से, उस एक का चयन कीजिए, जिसमें प्रश्न आकृति छिपी हुई/ सन्निहित हो।



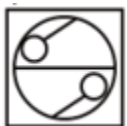
(a)



(b)



(c)



(d)



SSC

Bilingual



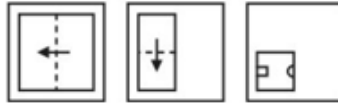
SSC CHSL

PRIME

265+ Total Tests

2020-21 Online Tests

Q23. एक कागज़ के टुकड़े को नीचे प्रश्न आकृति के अनुरूप मोड़कर पंच किया जाता है। दी गई उत्तर आकृतियों में से दर्शाइए कि कागज़ को खोलने पर यह कैसा प्रतीत होगा?



(a)



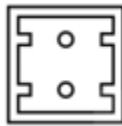
(b)



(c)



(d)



Q24. यदि एक दर्पण को AB रेखा पर रखा जाता है, तो कौन सी उत्तर आकृति, दी गयी आकृति की सही छवि होगी?



(a)



(b)



(c)



(d)



Q25. एक शब्द को दिए गए विकल्पों में से किसी एक संख्या समूह द्वारा दर्शाया जाता है। विकल्पों में दिए गए संख्याओं के समूह को अक्षरों के दो वर्गों द्वारा दर्शाया जाता है, जैसा कि नीचे दिए गए दो आव्यूह में दर्शाया गया है। आव्यूह I के स्तम्भ और पंक्तियों की संख्या 0 से 4 तक और आव्यूह II की 5 से 9 तक हैं, इन आव्यूहों से एक अक्षर को पहले इसकी पंक्ति और बाद में इसके स्तम्भ द्वारा दर्शाया जा सकता है। उदाहरण के लिए 'H' को 34, 41 द्वारा दर्शाया जाता है और 'T' को 59, 97 द्वारा दर्शाया जाता है। इसी प्रकार, आपको "STRAW" शब्द के लिए संख्या-समूह का चयन करना है।

Matrix - I					
	0	1	2	3	4
0	S	R	G	H	W
1	H	W	S	R	G
2	R	G	H	W	S
3	W	S	R	G	H
4	G	H	W	S	R

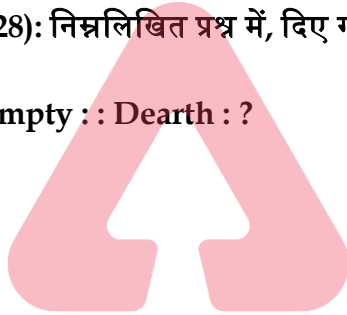
Matrix - II					
	5	6	7	8	9
5	A	F	L	C	T
6	C	T	A	F	L
7	F	L	C	T	A
8	T	A	F	L	C
9	L	C	T	A	F

- (a) 00, 78, 13, 67, 23
 (b) 12, 59, 01, 55, 10
 (c) 24, 97, 20, 86, 31
 (d) 43, 66, 44, 98, 43

Directions (26-28): निम्नलिखित प्रश्न में, दिए गए विकल्पों में से संबंधित शब्द का चयन करें।

Q26. Vacant : Empty :: Dearth : ?

- (a) Descend
 (b) Scarcity
 (c) Squander
 (d) Abundant



Q27. HMPU : IOSY :: GMRF : ?

- (a) FKOB
 (b) HOUJ
 (c) HPUJ
 (d) HOJU

Q28. 50 : 65 :: 122 : ?

- (a) 157
 (b) 145
 (c) 147
 (d) 155

Q29. इस प्रश्न में, दिए गए विकल्पों में से विषम शब्द युग्म को चुनिए।

- (a) Venus : Planet
 (b) Moon : Satellite
 (c) Jupiter : Black Hole
 (d) Sun : Star

Q30. इस प्रश्न में, दिए गए विकल्पों में से विषम युग्म को चुनिए।

- (a) KQ
- (b) DJ
- (c) SZ
- (d) RX

