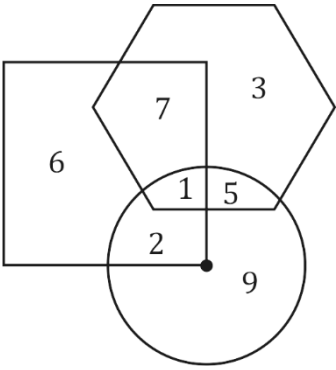
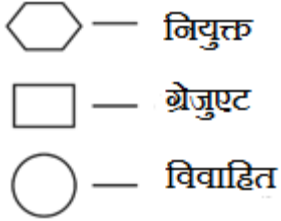


Reasoning Mega Quiz for SSC Tier-1

Directions (1): निम्नलिखित आकृति का अध्ययन कीजिए और नीचे दिए गए प्रश्नों के उत्तर दीजिए



Q1. किस संख्या द्वारा विवाहित नियुक्त व्यक्ति जो ग्रेजुएट नहीं हैं, को दर्शाया गया है?

- (a) 5
- (b) 7
- (c) 1
- (d) 2

Directions (2-3): निम्नलिखित प्रत्येक प्रश्न में, एक कथन के बाद दो निष्कर्ष I और II दिए गए हैं

Q2. कथन: यह पुस्तक 'Z' एकमात्र पुस्तक है जो 1950 से 1980 के बीच भारत में गरीबी की समस्या पर अपना ध्यान केंद्रित करती है।

निष्कर्ष:

I. 1950 से पूर्व गरीबी का कोई सवाल नहीं था।

II. 1950 से 1980 के दौरान भारत में गरीबी से संबंधित कोई अन्य पुस्तक नहीं है।

- (a) यदि केवल निष्कर्ष I अनुसरण करता है;
- (b) यदि केवल निष्कर्ष II अनुसरण करता है;
- (c) यदि न तो I न तो II अनुसरण करता है; और
- (d) यदि I और II दोनों अनुसरण करते हैं

12 + 12 Months Validity



SSC

Useful for CGL, CHSL & others

TEST PACK

Q3. कथन: भारत में शीर्ष 10% परिवारों द्वारा साझा राष्ट्रीय आय का प्रतिशत 35 है।

निष्कर्ष:

I. जब किसी अर्थव्यवस्था में तेजी से वृद्धि होती है, तो जनसंख्या के कुछ व्यक्तियों के पास पूंजी का संकेन्द्र बढ़ जाता है।

II. भारत में राष्ट्रीय आय असमान रूप से वितरित की जाती है।

- (a) यदि केवल निष्कर्ष I अनुसरण करता है;
(b) यदि केवल निष्कर्ष II अनुसरण करता है;
(c) यदि निष्कर्ष न तो I न ही II अनुसरण करता है और
(d) यदि I और II दोनों अनुसरण करते हैं

Directions (4-5): नीचे प्रत्येक प्रश्न में एक कथन के बाद दो पूर्वधारणाएँ I और II दी गयी हैं। एक पूर्वधारणा वह है जिसे पहले से मान लिया जाता है या पूर्वगृहीत होती है। आपको कथन और निम्नलिखित पूर्वधारणाओं पर विचार करना होगा और निर्णय लेना होगा कि कथन में कौन सी पूर्वधारणाएँ अंतर्निहित हैं। उत्तर दीजिए:-

Q4. कथन:- एक अखबार में एक विज्ञापन- मॉडल के लिए रूप में नियुक्त किए जाने हेतु "अविवाहित, 18 और 21 के बीच की मैट्रिक पास, अच्छी अंग्रेजी बोलने में सक्षम लड़कियों की आवश्यकता है"।

पूर्वधारणाएं:-

I. मॉडल के अच्छे प्रदर्शन के लिए अच्छी में धाराप्रवाह अंग्रेजी आवश्यक है।

II. एक मॉडल के रूप में प्रदर्शन करने में ऊंचाई मायने नहीं रखती है।

- (a) यदि केवल धारणा I अंतर्निहित है।
(b) यदि केवल धारणा II अंतर्निहित है।
(c) यदि या तो धारणा I या तो धारणा II अंतर्निहित है।
(d) यदि न तो धारणा I और न ही धारणा II अंतर्निहित है।

Q5. कथन:- "कंप्यूटर के क्षेत्र में हम सर्वश्रेष्ठ प्रशिक्षण प्रदान करते हैं"-एक विज्ञापन।

पूर्वधारणा:- I. लोग कंप्यूटर में प्रशिक्षण प्राप्त करने में रुचि रखते हैं।

II. लोग सबसे अच्छा प्रशिक्षण चाहते हैं।

- (a) यदि केवल धारणा I अंतर्निहित है।
(b) यदि केवल धारणा II अंतर्निहित है।
(c) यदि या तो धारणा I या तो धारणा II अंतर्निहित है।
(d) यदि I और II धारणा अंतर्निहित है।

Directions (6-7): निम्नलिखित जानकारी का ध्यानपूर्वक अध्ययन कीजिए और नीचे दिए गए प्रश्नों के उत्तर दीजिए।

A, B के 1 मीटर उत्तर की ओर है, जो F के 2 मीटर उत्तर की ओर है। E, A के 5 मीटर पूर्व की ओर है और D, B के दक्षिण-पूर्व में है और F के साथ 5 मी की दूरी पर है।

Q6. D के सन्दर्भ में E किस दिशा में है और उनके बीच की दूरी कितनी है?

- (a) 5 मी, पूर्व
(b) 3 मी, उत्तर
(c) 2 मी, दक्षिण
(d) 2 मी, पश्चिम

Q7. D के संदर्भ में A किस दिशा में है?

- (a) पूर्व
- (b) उत्तरपश्चिम
- (c) दक्षिण
- (d) पश्चिम

Q8. निम्नलिखित श्रृंखला में अगली श्रृंखला ज्ञात कीजिए।

2, 3, 7, 16, 32, ?

- (a) 57
- (b) 64
- (c) 48
- (d) 43

Q9. निम्नलिखित श्रृंखला में अगले वर्ण ज्ञात कीजिए।

AZ, WV, SR, ON, ?

- (a) JI
- (b) KJ
- (c) ML
- (d) JK

Q10. निम्नलिखित प्रश्न में दिए गए विकल्प में से विषम संख्या युग्म का चयन कीजिए।

- (a) 113, 96
- (b) 84, 67
- (c) 79, 63
- (d) 167, 150

Q11. कौन सी उत्तर आकृति प्रश्न आकृति के पैटर्न को पूरा करेगी?



(a)



(b)



(c)



(d)



Bilingual



SSC CHSL

PRIME

265+ Total Tests

2020-21 Online Tests

Q12. दी गयी उत्तर आकृति में से, उस एक का चयन कीजिए, जिसमें प्रश्न आकृति छिपी हुई/ सन्निहित हो।



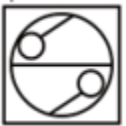
(a)



(b)



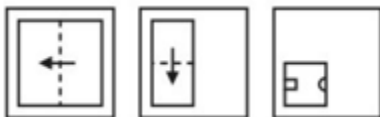
(c)



(d)



Q13. एक कागज़ के टुकड़े को नीचे प्रश्न आकृति के अनुरूप मोड़कर पंच किया जाता है। दी गई उत्तर आकृतियों में से दर्शाइए कि कागज़ को खोलने पर यह कैसा प्रतीत होगा?



(a)



(b)



(c)



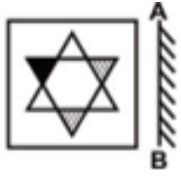
(d)



BILINGUAL

SSC
COMPLETE FOUNDATION
2020-21 Batch 2.0
 Starts Dec 28, 2020
 11 AM to 05 PM

Q14. यदि एक दर्पण को AB रेखा पर रखा जाता है, तो कौन सी उत्तर आकृति, दी गयी आकृति की सही छवि होगी?



(a)



(b)



(c)



(d)



Q15. एक शब्द को दिए गए विकल्पों में से किसी एक संख्या समूह द्वारा दर्शाया जाता है। विकल्पों में दिए गए संख्याओं के समूह को अक्षरों के दो वर्गों द्वारा दर्शाया जाता है, जैसा कि नीचे दिए गए दो आव्यूह में दर्शाया गया है। आव्यूह I के स्तम्भ और पंक्तियों की संख्या 0 से 4 तक और आव्यूह II की 5 से 9 तक हैं, इन आव्यूहों से एक अक्षर को पहले इसकी पंक्ति और बाद में इसके स्तम्भ द्वारा दर्शाया जा सकता है। उदाहरण के लिए 'H' को 34, 41 द्वारा दर्शाया जाता है और 'T' को 59, 97 द्वारा दर्शाया जाता है। इसी प्रकार, आपको "STRAW" शब्द के लिए संख्या-समूह का चयन करना है।

Matrix - I

	0	1	2	3	4
0	S	R	G	H	W
1	H	W	S	R	G
2	R	G	H	W	S
3	W	S	R	G	H
4	G	H	W	S	R

Matrix - II

	5	6	7	8	9
5	A	F	L	C	T
6	C	T	A	F	L
7	F	L	C	T	A
8	T	A	F	L	C
9	L	C	T	A	F

(a) 00, 78, 13, 67, 23

(b) 12, 59, 01, 55, 10

(c) 24, 97, 20, 86, 31

(d) 43, 66, 44, 98, 43

Directions (16-18): निम्नलिखित प्रश्न में, दिए गए विकल्पों में से संबंधित शब्द का चयन करें।

Q16. Vacant : Empty :: Dearth : ?

- (a) Descend
- (b) Scarcity
- (c) Squander
- (d) Abundant

Q17. HMPU : IOSY :: GMRF : ?

- (a) FKOB
- (b) HOUJ
- (c) HPUJ
- (d) HOJU

Q18. 50 : 65 :: 122 : ?

- (a) 157
- (b) 145
- (c) 147
- (d) 155

Q19. इस प्रश्न में, दिए गए विकल्पों में से विषम शब्द युग्म को चुनिए।

- (a) Venus : Planet
- (b) Moon : Satellite
- (c) Jupiter : Black Hole
- (d) Sun : Star

Q20. इस प्रश्न में, दिए गए विकल्पों में से विषम युग्म को चुनिए।

- (a) KQ
- (b) DJ
- (c) SZ
- (d) RX

Q21. दिए गये विकल्पों में से संबंधित शब्द/वर्ण/संख्या का चयन कीजिये।

पृथ्वी : ग्रह :: चौद : ?

- (a) सूरज
- (b) ब्रह्माण्ड
- (c) शुक्र
- (d) उपग्रह

TEST SERIES

BILINGUAL



SSC CGL 2020-21

PRIME

500+ TOTAL TESTS

Q22. दिए गए विकल्पों से विषम शब्द / अक्षर / संख्या ज्ञात कीजिये.

- (a) मंदिर
- (b) पूजा
- (c) मस्जिद
- (d) चर्च

Q23. दिए गए शब्दों को उसी अनुक्रम में व्यवस्थित करें जैसे वे शब्दकोश में होते हैं।

- 1. Pearl
 - 2. Peasant
 - 3. Pea
 - 4. Peanut
- (a) 3, 1, 4, 2
 - (b) 3, 4, 1, 2
 - (c) 1, 3, 2, 4
 - (d) 1, 2, 3, 4

Q24. दी गई अक्षर श्रृंखला में रिक्त स्थानों पर क्रमवार रूप से रखे जाने पर अक्षरों का कौन सा समूह इसे पूरा करेगा?

gfe_ig_eii_feigf_ii

- (a) ifgie
- (b) figie
- (c) eifgi
- (d) ifige

Q25. दिए गए विकल्पों में से उस संख्या का चयन करें जो प्रश्न चिह्न (?) के स्थान पर रखा जा सकता है.

3, 6, 18, 72, ...?..., 2160

- (a) 144
- (b) 216
- (c) 288
- (d) 360

Q26. एक महिला का परिचय देते हुए, एक महिला ने कहा, "वह मोहन के ग्रैंडफादर की एकमात्र बेटी है जो मेरे पति के पिता हैं". महिला खुद को परिचय कराई गयी महिला से कैसे सम्बंधित है?

- (a) आंट
- (b) माँ
- (c) सास
- (d) सिस्टर-इन-लॉ

Q27. दो वर्ष पूर्व, आध्या अपने पुत्र से तीन गुणा बड़ी है और दो वर्ष बाद, उसकी आयु का दो गुणा उसके पुत्र की आयु का पांच गुणा के बराबर हो जाएगी. आध्या की वर्तमान आयु ज्ञात कीजिये.

- (a) 38 वर्ष
- (b) 36 वर्ष
- (c) 34 वर्ष
- (d) 42 वर्ष

Q28. यदि MOTHER को KMRFCP के रूप में लिखा जा सकता है, तो HOUSE कैसे लिखा जाएगा?

- (a) FMRPC
- (b) GNSQD
- (c) GNRQD
- (d) FMSQC

Q29. यदि $3 \times 4 = 10$, $5 \times 8 = 18$, $7 \times 7 = ?$

- (a) 26
- (b) 21
- (c) 28
- (d) 49

Q30. निम्नलिखित प्रश्न में, एक श्रृंखला दी गई है जिसमें एक पद लुप्त है, आपको दिए गए विकल्पों में से उस विकल्प का चयन करना है जो इस श्रृंखला को पूरा करेगा?

1	2	3
11	7	5
120	45	?

- (a) 19
- (b) 16
- (c) 15
- (d) 17



The advertisement features two circular logos at the top: the Indian National Emblem on the left and the Adda247 logo on the right. Below the logos, the text 'SSC & RAILWAY MAHAPACK' is written in large, bold, white letters. Underneath, it lists 'Live Class | Test Series' and 'Video Course | Ebook'. At the bottom, the word 'BILINGUAL' is written in white on a dark red background.